

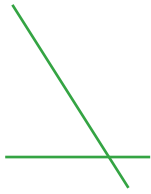
姓名: _____

日期: _____

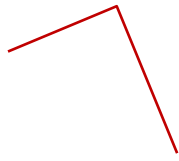
班別: _____

熱身練習

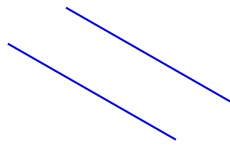
1. 觀察下列各圖，寫出代表答案的英文字母。



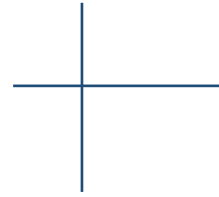
A



B



C



D

列出由垂直線組成的圖。

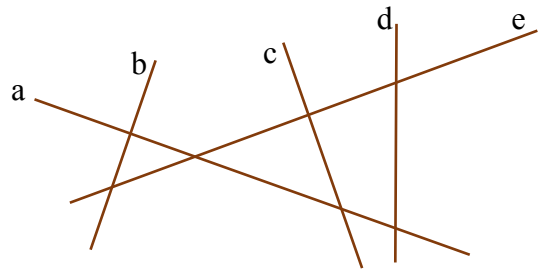
答案：_____

2. 右圖中，



(a) 與直線 c 互相垂直的是直線

_____。

(b) 共有 _____ 組垂直線。



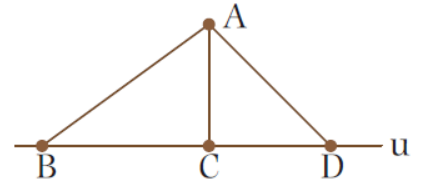
3. 在下列各圖中分別繪畫一條直線，與原有的直線互相垂直。



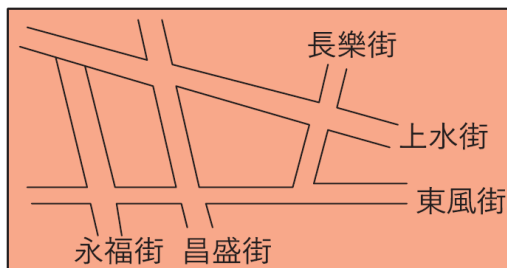
能力升級

4. 線段 * $AB / AC / AD$ (* 圈出答案)

表示 A 點到直線 u 的距離。



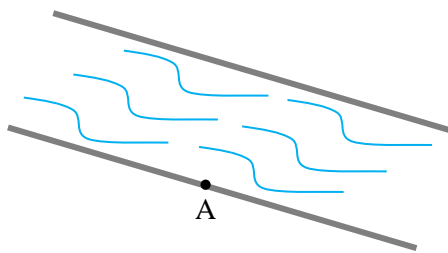
5.




在上面的地圖中，哪條街道與長樂街互相垂直？

答案：_____街

6. 在江邊 A 點往對岸修建一座最短的橋，在圖中畫出代表這座橋的路線圖。



 7. 右圖中，

(a) 共有 _____ 組垂直線。

(b) 在圖中加畫一條線段，使直角的數量比原有的增加 2 個。

