

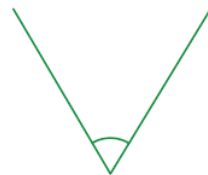
姓名:

日期:

班別:

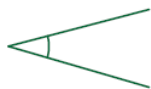
## 熱身練習

1. 右圖的角比直角\* 大 / 小 (\*圈出答案),  
是一個\_\_\_\_\_角。

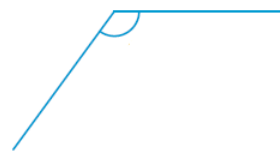
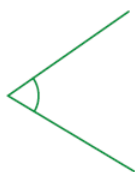


2. 根據指示，圈出所有正確的答案。

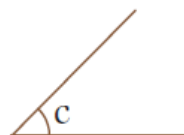
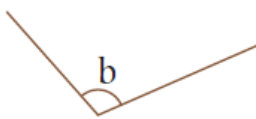
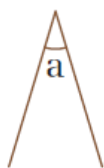
(a) 銳角



(b) 鈍角



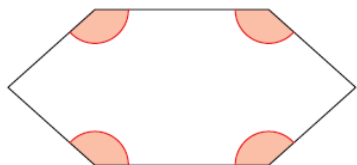
3.



上圖中，最大的銳角是角\_\_\_\_\_。

4. 依指示，把所有的角塗上顏色。

(a) 鈍角



(b) 銳角

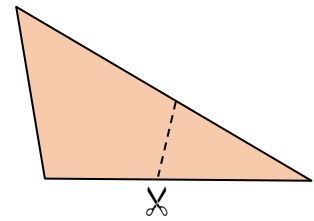


能力升級

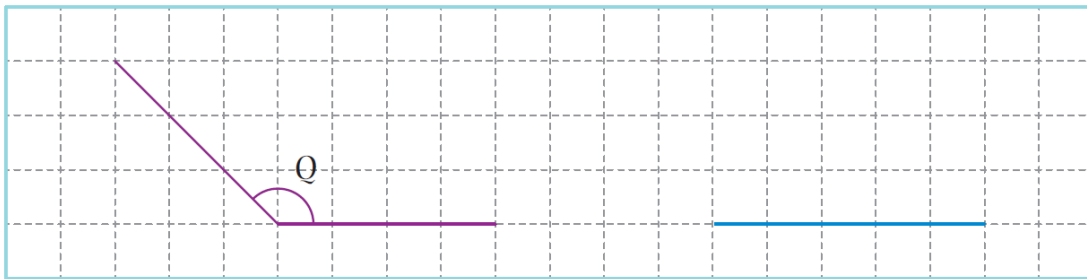
5. 下列哪一個選項是正確的？

- A. 所有的銳角一樣大。                      ○B. 銳角比直角大。  
○C. 鈍角比直角小。                        ○D. 鈍角都比銳角大。

6. 沿虛線從右面的手工紙剪去一個三角形，  
餘下的四邊形有一個\_\_\_\_\_角和三個  
\_\_\_\_\_角。

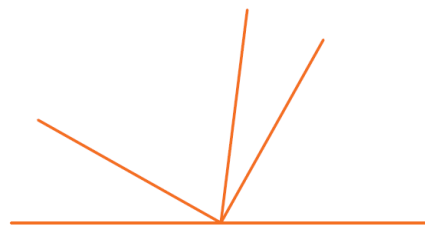


7. 在下圖中加畫一條直線，與藍色線構成一個比角 Q 小的鈍角。



8. 右圖中，共可數出鈍角多少個？

答案：\_\_\_\_\_個



進階題

9. 哥哥在下午 3 時 45 分放學，15 分鐘後回到家，他到家時，時鐘的時針和分針形成的角是一個\* 銳角 / 直角 / 鈍角。

(\*圈出答案)



CLASSROOM Tips

先求回到家的時間，再利用鐘面找出時針和分針的位置。