

# 時間間隔


姓名:

日期:

班別:

## 熱身練習

1.



根據上圖，時間過了 2 小時。

2.



以上是張小姐參加烹飪班的時間。


(a) 烹飪班在 11 時 開始。

(b) 張小姐上烹飪班共用了 2 小時。

3. 右圖時鐘顯示叔叔離開家去機場的時間。

叔叔在 3 時半到達機場，他從家到機場

共用了 1 小時。



4. 右面是旅行團出發的時間，比原定時間提早了

1 小時。旅行團原定在 9 時 出發。



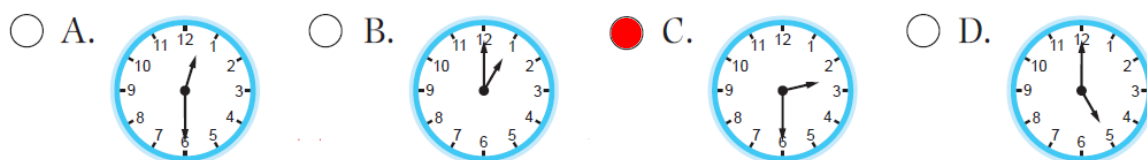
能力升級

5.



素芳和朋友一起到公園遊玩。

- (a) 素芳在1時半從家出發，共用了 半 小時到達公園。
- (b) 素芳在公園裏接到媽媽的來電，下列哪一個可能是素芳接到電話的時間？



6. 右表顯示三名學生到達山頂的時間。

- (a) 榮光比德輝\* 早 / 遲 (\*圈出答案)

1 小時到達山頂。

- (b) 立文比德輝慢 2 小時，即立文在

12 時 到達山頂。

學生	時間
榮光	11 時
德輝	10 時
立文	

進階題

7.



依規律，最後一個時鐘的時針指向數字 10，分針指向數字 12。