

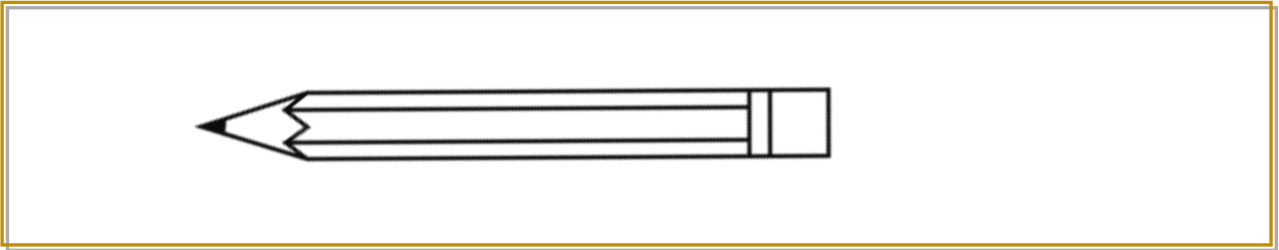
姓名:

日期:


班別:

## 熱身練習

1. 向友畫了一枝鉛筆，哪裏是筆尖的位置？把它標示出來。



2. 一隻雞由 M 點走到 N 點去吃蟲子，牠可以怎樣走？把牠的路徑標示出來。



### CLASSROOM Tips

我們可以用線來表示路徑。

3. 以下各項描述，正確的，在空格內加上「✓」，錯誤的，加上「×」。

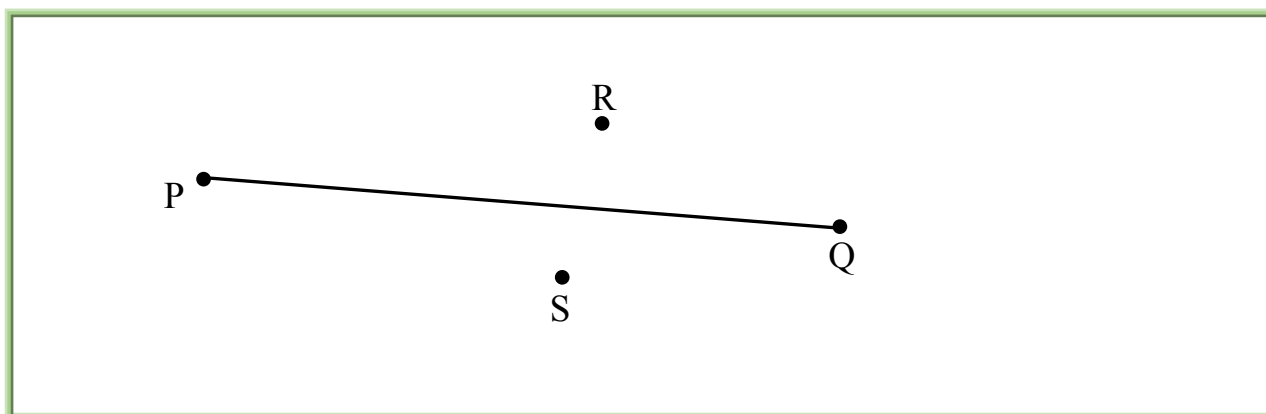
答案


(a) 經過兩點可以有很多不同的曲線。

(b) 在數學上，線是沒有粗幼之分。

能力升級

4. 在下圖中，先用直線把 R 和 S 兩點連起來，然後標示出直線 PQ 和直線 RS 相交的點。



-  5. 依指示畫圖。

- (a) 用直線把 A、B 和 C 三點連起來。  
 (b) 承上題，最多可畫出\_\_\_\_\_條直線。  
 (c) 列出所有直線的名稱。

答案：\_\_\_\_\_

- (d) 如果在框內多加一點 D，然後用直線把它和另外三點連起來，最多可加畫直線多少條？

答案：\_\_\_\_\_條

