

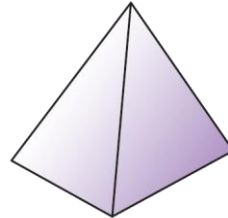
姓名:

日期:

班別:


## 熱身練習

1. 右圖是一個\* 角柱 / 角錐 。
- (\*圈出答案)



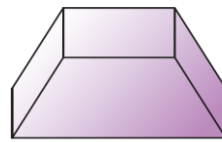
2. 寫出下列各立體圖形的名稱。

(a)



\_\_\_\_\_

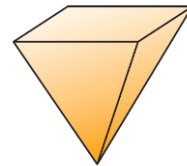
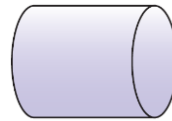
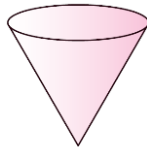
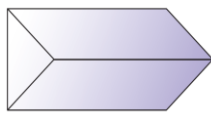
(b)





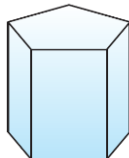
\_\_\_\_\_

3. 依指示，圈出所有答案。

(a) 有尖頂的立體圖形



(b)  可以平穩地疊放在下面哪些立體圖形上？



能力升級

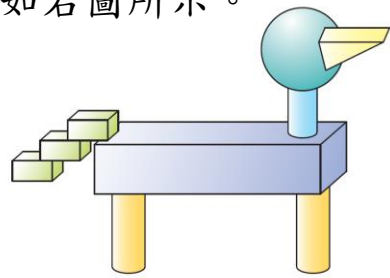
4. 觀察下列各物件，寫出所有代表答案的英文字母。



- (a) 球： \_\_\_\_\_
- (b) 圓柱： \_\_\_\_\_
- (c) 角柱： \_\_\_\_\_

5. 英紅用不同的立體圖形砌成了一個模型，如右圖所示。

- (a) 右圖有 \_\_\_\_\_ 個角柱。
- (b) 右圖有 \_\_\_\_\_ 個圓柱。



進階題

6.



弟弟把上面的餅乾整齊地疊起來，會砌成哪種立體圖形？

答案： \_\_\_\_\_