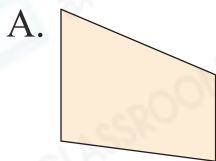


15 平行四邊形和梯形

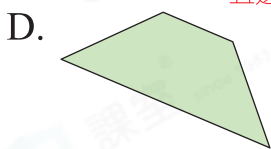
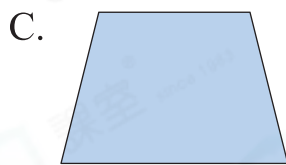
選擇題

選出正確的答案填入  內。

1. 下列哪一個 不是 梯形？



易錯警示
梯形是四邊形的一種，
B 是五邊形。

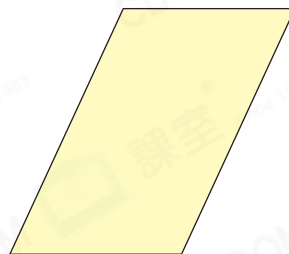


五邊形



2. 下列哪一項關於右圖的說法是 錯誤 的？

- A. 對邊平行。
- B. 對邊長度相等。
- C. 是長方形。 C. 是一個平行四邊形。
- D. 沒有直角。

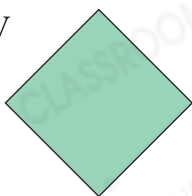


多元化題型


完成下列各題。

應試題


3. V



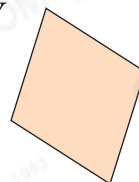
W



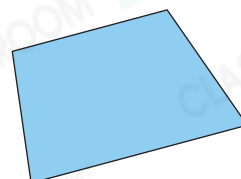
X



Y

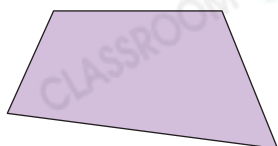


Z



列出所有平行四邊形： V、X、Y

4.



左圖有 0 對對邊平行，它

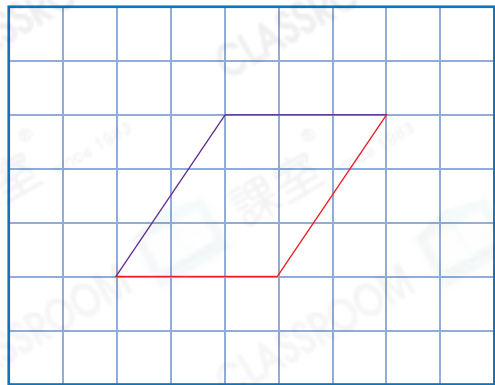
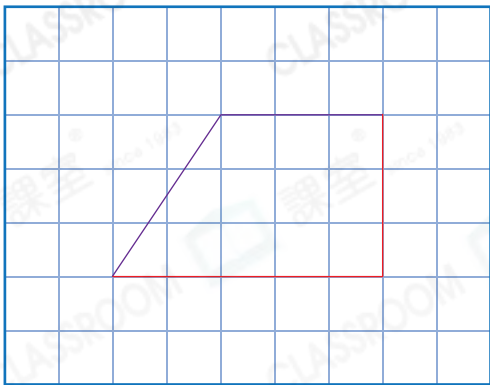
* 是 / 不是 (* 圈出答案) 梯形。

應試題

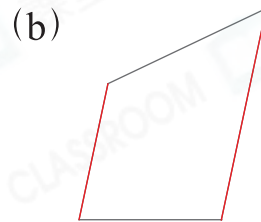
5. 在下列各圖中加畫兩條線段，和原有的兩條紫線組成指定的四邊形。

(a) 梯形 (其他正確答案也可接受)

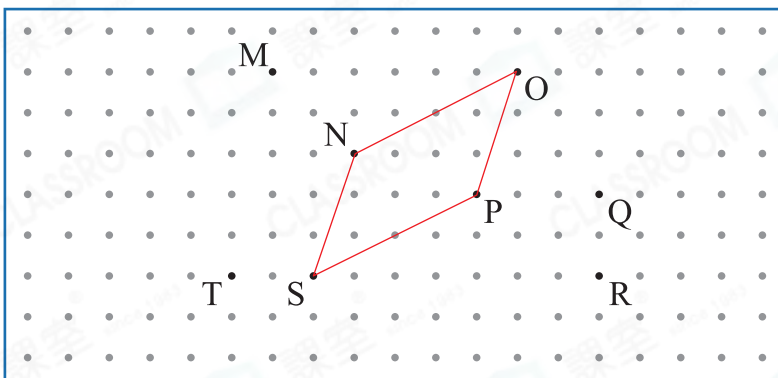
(b) 平行四邊形



6. 下列各圖是梯形，沿灰線畫出梯形的上底和下底。



7.



要在釘板上圍出一個平行四邊形，應該選擇哪四點？

答案： N、O、P、S

思維跳一跳

8. 在右圖中加畫三條線段，使圖中共能數出4

個梯形和6個平行四邊形。(其他正確答案也可接受)

圖中還沒有平行四邊形，先考慮平行四邊形，再用試誤法解題。

6個平行四邊形和4個梯形 9個平行四邊形和9個梯形

或 6個平行四邊形和12個梯形

