

14 平行線

選擇題

選出正確的答案填入  內。

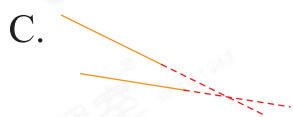
應試題

1. 下列哪一組是平行線？



應試技巧

先剔除曲線，再通過延長兩條直線，看是否相交。相交，不是平行線。不相交，是平行線。



延長後相交，不是平行線。

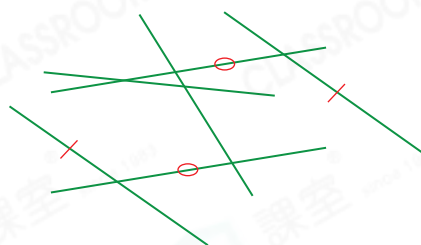


相交，不是平行線。



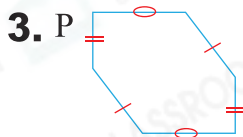
2. 右圖中，共有平行線多少組？

- A. 1 組
- B. 2 組
- C. 3 組
- D. 4 組



多元化題型


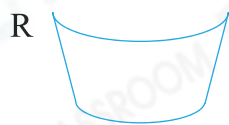
完成下列各題。



3 組平行線

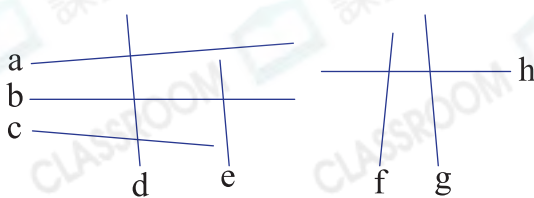


1 組平行線



列出所有有平行線的圖形： P、Q

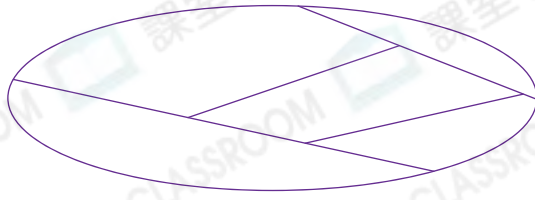
4.



在上圖中，直線 d 和直線 g 均與直線 e 平行。

應試題

5. (a)



上圖中，有* 直線 / 曲線 / 垂直線 / 平行線。
(* 圈出所有答案)

(b)

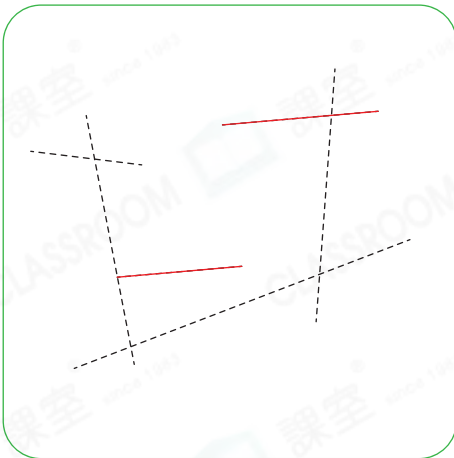


上圖中，有* 直線 / 曲線 / 垂直線 / 平行線。
(* 圈出所有答案)

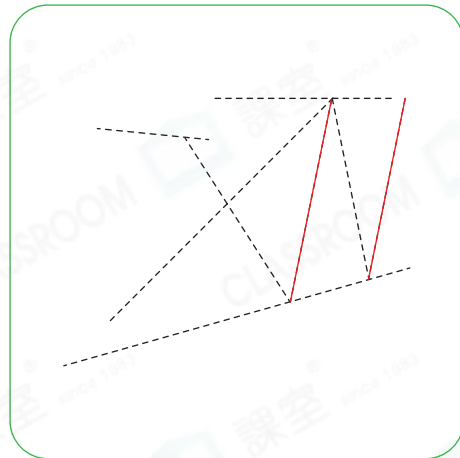
應試題

6. 在下列各圖中，沿虛線畫出一組平行線。

(a)



(b)



7. 在下圖中，經過兩點畫一條直線，使它與紫線組成一組平行線。

