

階段自測(二)

(考核範圍：練習11-18)

選出正確的答案填入  內。【5分，每題1分】

1. 以下哪一道算式的結果與其他的不同？

A. 2×6

B. 3×4

A. 12

B. 12

C. 4×8

D. 6×2

C. 32

D. 12



2. 右圖是一籃粟米，6籃粟米共有多少條？

A. 24條

$4 \times 6 = 24$

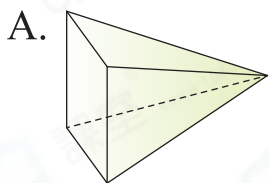
B. 16條

C. 10條

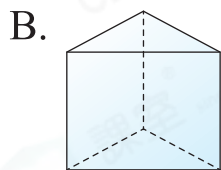
D. 8條



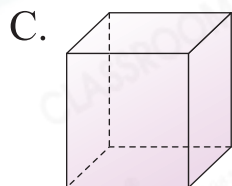
3. 以下哪一個立體圖形的側面不是四邊形？



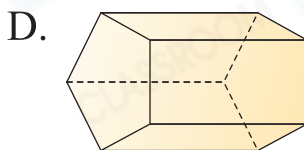
側面是三角形。



側面是四邊形。



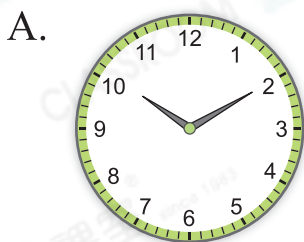
側面是四邊形。



側面是四邊形。



4. 以下哪一個鐘面顯示的時間是10時2分？



10時10分



10時2分



2時50分



2時10分



5. 4月1日是星期六，這年的3月28日是星期幾？3月的最後一天是3月31日。

- A. 星期一
C. 星期三

- B. 星期二
D. 星期四

易錯警示

誤以為3月只有30天。



3月28日	3月29日	3月30日	3月31日	4月1日
星期二	星期三	星期四	星期五	星期六

完成下列各題。【15分】

6. $7 \times 6 = 6 \times \underline{7} = \underline{42}$ (1分)

7. $9 \times \underline{0} = 0$ (1分)

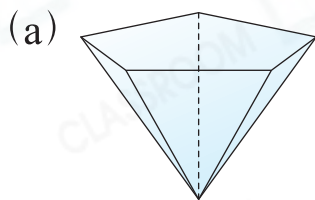
8. $\underline{8} \times 1 = 8$ (1分)

9. 一間課室有2扇門，10間課室共有 $\underline{20}$ 扇門。(1分)
 $2 \times 10 = 20$

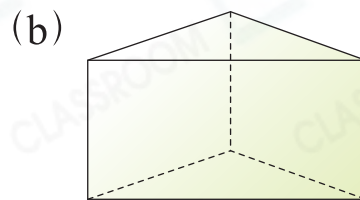
10. 寫出一個成語得5分。家奇寫出了5個成語，他共得多少分？(1分)

答案： $\underline{25}$ 分 $5 \times 5 = 25$

11. 寫出下列立體圖形的名稱。

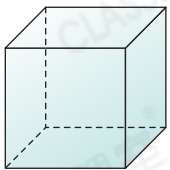


五角錐 (1分)



三角柱 (1分)

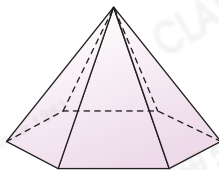
12. 觀察下列立體圖形，寫出所有代表答案的英文字母。



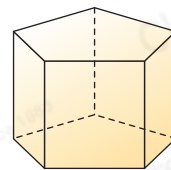
E



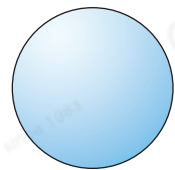
F



G



H



I

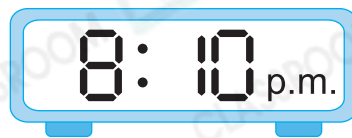
(a) 有曲面的立體圖形：F、I (1分)

(b) 有兩個底的立體圖形：E、H (1分)

13. 下表顯示講座的開始時間和結束時間。



開始時間



結束時間

(a) 講座的結束時間是 下 午 8 時 10 分。(1分)

(b) 現在是 7:12 p.m.，距離講座開始還有 13 分鐘。(1分)



14. 下表顯示舞蹈比賽的時間表。

流程	時間
登記信息	8:00 a.m. — 8:30 a.m.
比賽	8:50 a.m. — 11:50 a.m.
頒獎	11:55 a.m. — 12:15 p.m.

(a) 比賽的開始時間是 上 午 8 時 50 分。(1分)

(b) 頒獎時間長 20 分鐘。(1分)



15. 以下是十一月的月曆。



(a) 從 11 月 10 日開始，每逢星期三是學校的讀書日，11 月共有 3 天是讀書日。(1分) 11 月 10 日、17 日和 24 日是讀書日，共 3 天。

(b) 捐書活動一連舉行 4 天，由 11 月 29 日開始，最後一天是

12/十二月 2/二 日。(1分)

第一天	第二天	第三天	第四天
11月29日	11月30日	12月1日	12月2日

列式計算下列各題。【12分，每題3分】

16. 一箱月餅有7盒，每盒有8個月餅，一箱月餅共有多少個？

$$\begin{array}{l} \text{一箱月餅共有：} \qquad \qquad \qquad 8 \times 7 \\ 8 \times 7 \qquad \qquad \qquad \text{或} \qquad \qquad \qquad = 56 \\ = 56(\text{個}) \qquad \qquad \qquad \text{一箱月餅共有 } 56 \text{ 個。} \end{array}$$

(附額外資料)

17. 每枝鉛筆售\$7，每枝原子筆售\$9。家敏購買了半打原子筆，共須付款多少？

$$\begin{array}{l} \text{共須付款：} \qquad \qquad \qquad 9 \times 6 \\ 9 \times 6 \qquad \qquad \qquad \text{或} \qquad \qquad \qquad = 54 \\ = \$54 \qquad \qquad \qquad \text{共須付款 } \$54。 \end{array}$$

18.

學業有成

爺爺寫了5張上圖的揮春，共寫了字多少個？

$$\begin{array}{l} \text{共寫了字：} \qquad \qquad \qquad 4 \times 5 \\ 4 \times 5 \qquad \qquad \qquad \text{或} \qquad \qquad \qquad = 20 \\ = 20(\text{個}) \qquad \qquad \qquad \text{共寫了字 } 20 \text{ 個。} \end{array}$$

19. 文君每月去游泳一次，她半年共去游泳多少次？半年有6個月。

$$\begin{array}{l} \text{她半年共去游泳：} \qquad \qquad \qquad 1 \times 6 \\ 1 \times 6 \qquad \qquad \qquad \text{或} \qquad \qquad \qquad = 6 \\ = 6(\text{次}) \qquad \qquad \qquad \text{她半年共去游泳 } 6 \text{ 次。} \end{array}$$