

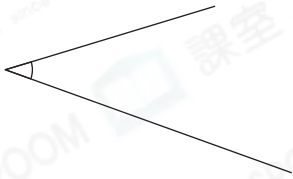
角和直角

選擇題

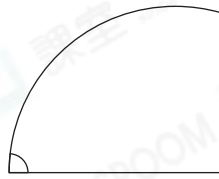
選出正確的答案填入  內。

1.

P



Q



R



上圖中，哪個/些是角？

A. 只有 P

B. 只有 P 和 Q

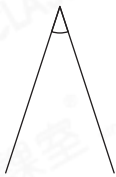
C. 只有 P 和 R

D. P、Q 和 R

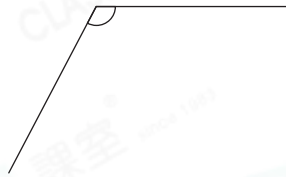


2. 下列哪一個角是直角？

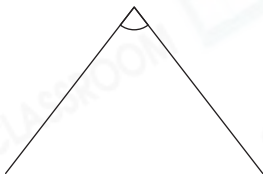
A.



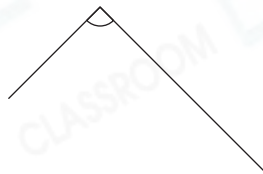
B.



C.




D.

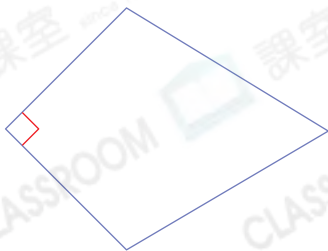


多元化題型

完成下列各題。

3. 用  標示出下列各圖形內的所有直角，並數出直角的個數。

(a)



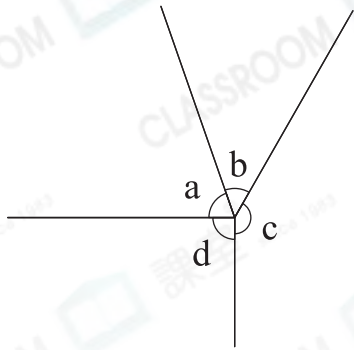
1 個

(b)



3 個

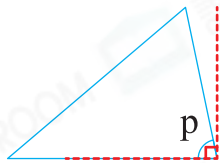
4. 根據下圖，回答下列各題。



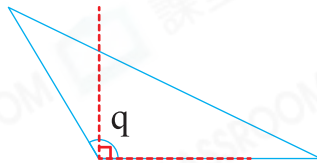
(a) 角 d 是直角。

(b) 角 b 比直角 * 大 / 小 (* 圈出答案)。

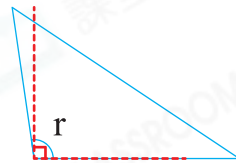
5. 應試題



角 p 比直角小。



角 q 比直角大很多。



角 r 比直角大一點。


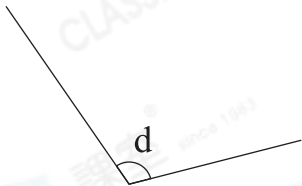
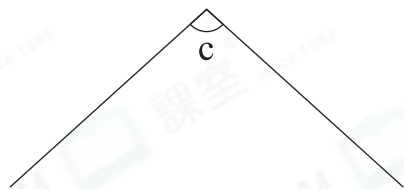
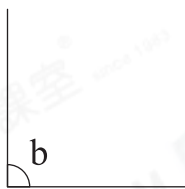
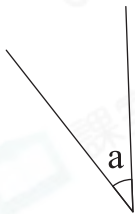
把上圖中的三個角由大至小排列出來。

答案：角 q ，角 r ，角 p
(最大) (最小)

應試技巧

將三個角分別與直角進行比較。

6. 根據指示，寫出所有代表答案的英文字母。



(a) 直角： b、f

(b) 比直角小的角： a、e

(c) 比直角大的角： c、d