


# 乘法的認識

## 選擇題

選出正確的答案填入  內。

1.



下列哪一道算式可找出上圖共有雞腿多少隻？

A.  $3 + 3 + 3 + 3$

B.  $5 + 3$

C.  $3 \times 5$

D.  $5 + 5 + 5 + 5 + 5$



2. 下列哪一道乘式表示「 $8 + 8 + 8 + 8 + 8 + 8$ 」？

A.  $8 + 6$

B.  $8 \times 6$

C.  $8 + 8$

D.  $8 \times 8$



3. 下列哪一項是正確的？

I. 8的5倍等於 $8 \times 5$ 。

II. 10的3倍等於 $10 \times 3$ 。

III.  $9 + 9 + 9 + 9 + 9 + 9 + 9$ 是9的8倍。 III. 是9的7倍。

A. 只有I和II

B. 只有I和III

C. 只有II和III

D. I、II和III



## 多元化題型


完成下列各題。

4.

$$4 \times 8 = 32$$

上圖的算式中，積是 32。

5.




(a)  $4 + 4 + 4 + 4 = \underline{16}$

(b) 4 的  $\underline{4}$  倍是  $\underline{16}$  。

(c)  $4 \times \underline{4} = \underline{16}$

6.



用乘式表示花的總數量。

答案： $\underline{5 \times 6} = \underline{30}$

7.




(a) 用乘式表示金魚的總數量。

答案： $\underline{7 \times 5} = \underline{35}$

(b) 文君 拿走 3 袋金魚，用乘式表示拿走的金魚數量。

答案： $\underline{7 \times 3} = \underline{21}$

8.

一盒蘋果的數量是一袋蘋果的  $\underline{5}$  倍。

$$2 + 2 + 2 + 2 + 2 = 10,$$

$$2 \text{ 的 } 5 \text{ 倍是 } 10.$$