

變式題特訓(一)



三位數

原題

寫出一個比490大，又比500小的數？(其他正確答案也可接受)

答案：491

變式1

寫出一個比490大，又比500小的偶數？(其他正確答案也可接受)

答案：492

變式2

寫出所有比490大，又比500小的奇數？

答案：491、493、495、497、499



加減應用題

原題

倉庫有75個 ， 比  少16個。有  多少個？

A. 59個 $75 - 16 = 59$

B. 69個

C. 81個

D. 91個



變式1

倉庫有75個 ，比  少16個。有  多少個？

A. 59個

B. 69個


C. 81個

D. 91個 $75 + 16 = 91$



變式2

倉庫有75個 ，比  多16個，而  比  多16個。有

 多少個？

A. 43個 $75 - 16 - 16 = 43$

B. 59個

C. 91個

D. 107個

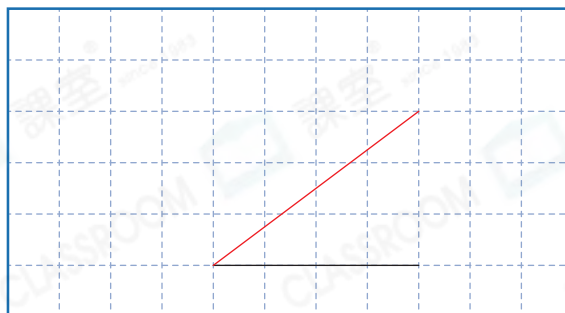




角

原題

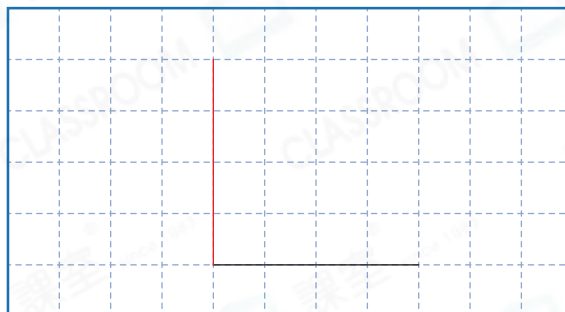
在下圖加畫出一條線，使它與原有的線組成一個銳角。



(其他正確答案也可接受)

變式1

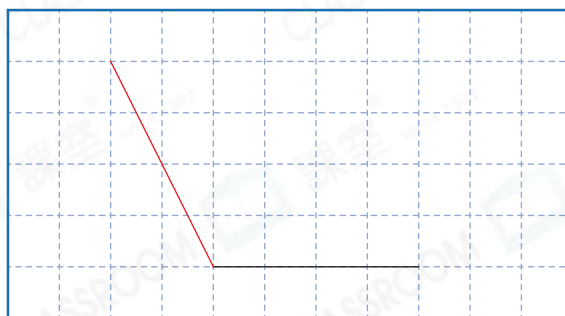
在下圖加畫出一條線，使它與原有的線組成一個直角。



(其他正確答案也可接受)

變式2

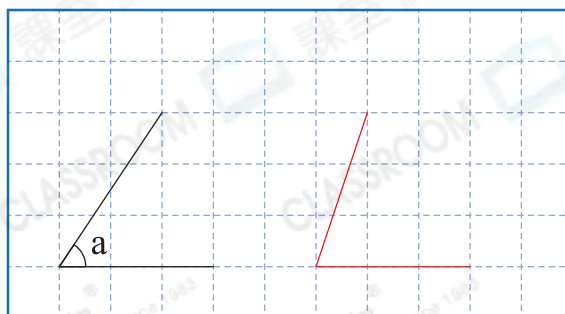
在下圖加畫出一條線，使它與原有的線組成一個鈍角。



(其他正確答案也可接受)

變式3

在下圖畫出一個比角 a 大的銳角。



(其他正確答案也可接受)