

# 目錄

## 內容

如何登入及進入教材資源庫尋找所需書本?.....	2
PDF 編輯器有何功能? 怎麼使用?.....	6
功能 1: PDF 距離縮放 ( 例子 : 縮放至 75% 。此外 , 旁邊的加減符號亦 能調整頁面距離。 ).....	7
功能 2: 答案展示或關閉 ( 所有書本均使用同一方法 如按鈕為灰色則表示 不能點擊。 ).....	7
功能 3: PDF 頁面播放 .....	10
功能 4: 跳至最後一頁 .....	11
功能 5: 頁面旋轉 .....	12
功能 6: 轉換頁面檢視方式 .....	13

# PDF 編輯器的不同功能

## Different functions of the PDF editor

使用 PDF 編輯器前，請先跟據以下方式登入及進入教材資源庫尋找所需書本。

如何登入及進入教材資源庫尋找所需書本？

第 1 步：進入官網頁面。



## 第 2 步：點擊教材資源庫。



## 第 3 步：登入會員帳號。

e-Resources 課室資源庫

教材資源庫，為您的課堂增添色彩，提供最新及最全面的線上教學資源。無論您是教師還是學生，立即使用教材資源庫所提供的各種主題教材、多媒體學習、評估工具等，助您提升教學效果或學習成果！

[會員登入](#) [會員註冊教學](#) [查閱網上資源教學](#) [學生 / 家長資源啓用申請](#) [教師資源啓用申請](#)

Username or Email

Password

Remember Me

[Lost your password?](#)

## 登入成功的畫面



第 4 步：已購買的書本及免費開放的電子教學資源都會在下方位置。



第 5 步：點擊想查看的書本。（以下使用長河小學中文科閱讀及聆聽同步練（6下）作例子示範，點擊後畫面如下。）





電子解題答案如下：

閱讀：單元一

閱讀：單元二

閱讀：單元三

閱讀：單元四

閱讀：單元五

閱讀：單元六

閱讀：單元七

閱讀：單元八

閱讀評估

聆聽：單元一

聆聽：單元二

聆聽：單元三

聆聽：單元四

聆聽評估

## 單元一 春日出遊

**學習重點**  
閱讀策略：行為分析法(一)  
語基知識點：詞義辨析

**閱讀策略** 行為分析法(一)：從人物的語言、動作分析人物的心情

從言行分析人物心情的方法：找出文章中記述人物言語及行為動作的內容，分析人物的言語內容、說話語氣、動作，表現出人物怎樣的心情。

閱讀下面的記敘文，然後回答問題。

建議完成時間：15分鐘

星期天，春光明媚，我和好朋友偉康一起來到位於西貢的獅子會自然教育中心遊玩。這裏的設施相當豐富，有果園、魚池、蝴蝶谷等，其中於近年翻新的「農館」，更吸引了不少遊客，我和偉康也迫不及待地到農館參觀。

農館入口處右側的牆壁上有一幅五顏六色的壁畫，上面繪畫了各種各樣的蔬果。我和偉康分別指認壁畫上的水果，看看誰認識的水果多。偉康更提議我們用英文比賽。輪到我時，我看着壁畫上的茄子，不禁搖頭，支支吾吾半天還是說不出來。偉康看我窘迫的樣子，笑着說：「蠢字，我們上星期學的英文歌裏面就有茄子這個單詞，你一定還記得吧？」我立刻反應過來，說出茄子的英文單詞，並高興地與偉康擊掌。

多媒體學習資源如下：

首頁 / 教材資源庫 / 長河小學中文科閱讀及聆聽同步練 / 小六下

長河小學中文科  
閱讀及聆聽  
同步練

6下

Long River Primary School

飛船講解

書籍錄音

跨學科知識

電子解題答案

## PDF 編輯器有何功能？怎麼使用？

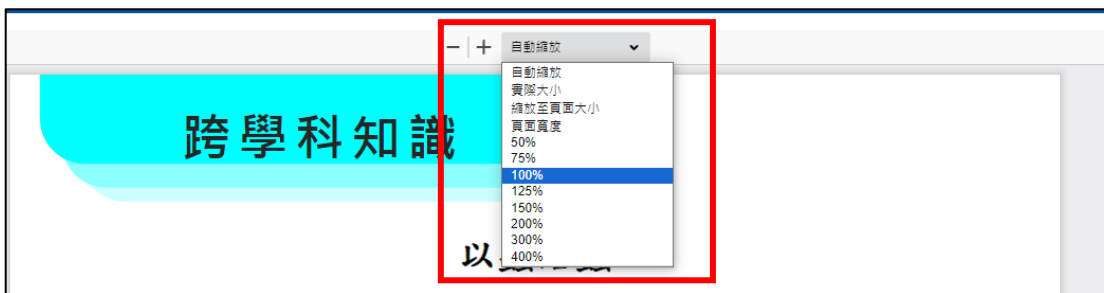
第 6 步：開始使用 PDF 編輯器的不同功能。（PDF 編輯器位置如下）



PDF 編輯器位置在多媒體學習資源中與電子解題答案是一樣的。



功能 1: PDF 距離縮放 ( 例子 : 縮放至 75% 。此外 , 旁邊的加減符號亦能調整頁面距離。)



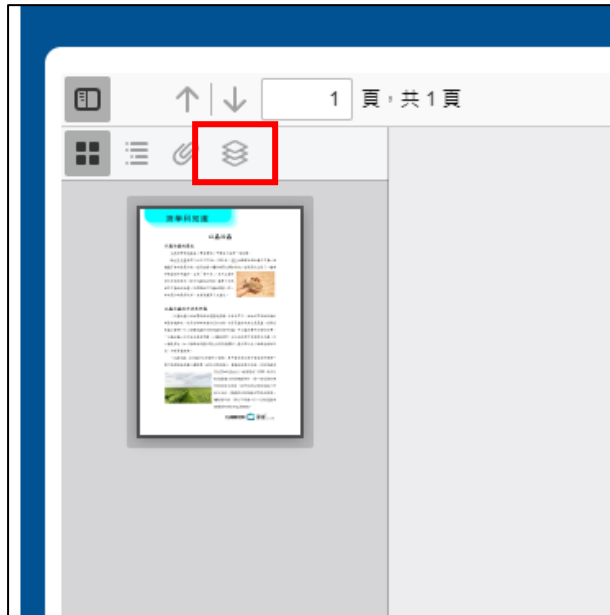
功能 2: 答案展示或關閉 ( 所有書本均使用同一方法 如按鈕為灰色則表示不能點擊。 )

先點擊此按鈕

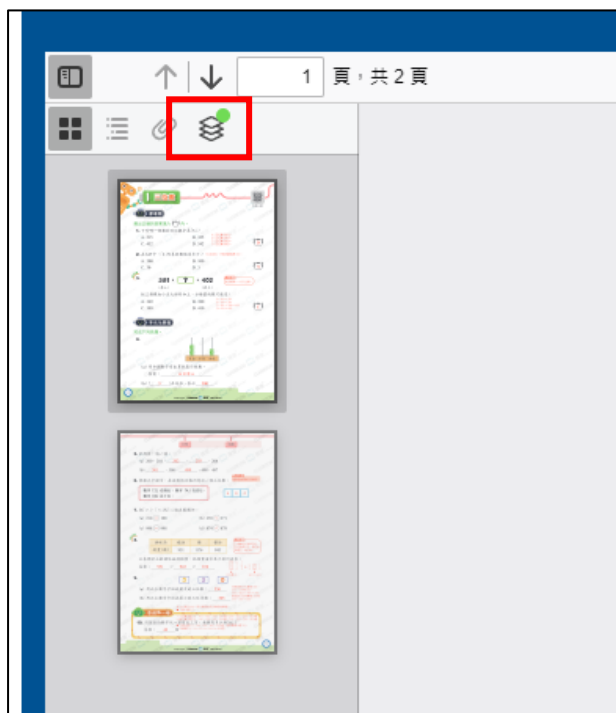


左側會彈出列表

例子 1：如下方展示圖 以下為該 PDF 不是單元答題頁面，而是類近於課外小知識，因此為灰色。



例子 2：能點擊的





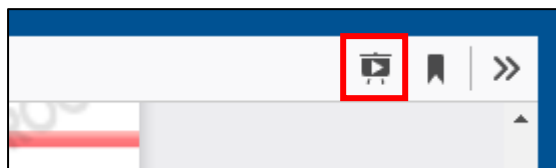
點擊後如下

只需點擊當中的 **Show Answers Check Box**，便可以選擇是否開啟答案展示。

The screenshot shows the Classroom interface for a lesson titled "三位數" (Three-digit numbers). The left sidebar has a "Show Answers" checkbox checked and highlighted with a red box. The main content area displays a "選擇題" (Multiple Choice) question. The question asks to select the correct answer to fill in a box. The first question is: "1. 下列哪一個數的百位數字是「5」?" (Which of the following numbers has a tens digit of 5?). The options are A. 215, B. 325, C. 452, and D. 542. To the right of the options, there is a list of explanations: A. 百位數字是2。 (Tens digit is 2), B. 百位數字是3。 (Tens digit is 3), C. 百位數字是4。 (Tens digit is 4), and D. 百位數字是5。 (Tens digit is 5). A box labeled "D" is shown next to the options. The second question is: "2. 在 347 中，「3」代表的數值是多少？「3」在百位，代表的數值是 300。" (In 347, what value does the digit 3 represent? The digit 3 is in the hundreds place, representing the value 300). The options are A. 300, B. 100, C. 30, and D. 3. A box labeled "A" is shown next to the options.

The screenshot shows the Classroom interface for the same lesson. The left sidebar has a "Show Answers" checkbox unchecked and highlighted with a red box. The main content area displays the same "選擇題" (Multiple Choice) question. The first question is: "1. 下列哪一個數的百位數字是「5」?" (Which of the following numbers has a tens digit of 5?). The options are A. 215, B. 325, C. 452, and D. 542. There are empty boxes next to the options. The second question is: "2. 在 347 中，「3」代表的數值是多少？" (In 347, what value does the digit 3 represent?). The options are A. 300, B. 100, C. 30, and D. 3. There are empty boxes next to the options. The third question is partially visible: "3. 281 + 2 = 400".

### 功能 3 : PDF 頁面播放



點擊後進入以下畫面，模式與播放 PowerPoint 一致，只需左鍵便會進入下一頁，亦可使用滑鼠滾輪移動頁面。

按下 **Esc** 即可結束全螢幕模式 成績

5. 依規律，填一填。

(a) 200, 201, 202, 203, 204

(b) 501, 500, 499, 498, 497

6. 根據以下提示，在右面的方格內寫出一個三位數。

數字「2」在個位，數字「4」在百位，  
數字「8」在十位。

4 8 2

7. 把「>」、「<」或「=」填在圓圈內。

(a) 210  198                      (b) 359  371

(c) 998  998                      (d) 874  878

8. 

調味品	蠔油	醋	醬油
銷量(瓶)	951	876	943

上表顯示三款調味品的銷量，把銷量由多至少排列出來。

答案：951 > 943 > 876

9. 5 3 0

(a) 用以上數字卡組成最大的三位數：530

(b) 用以上數字卡組成最小的三位奇數：305

應試技巧  
三位數百位對齊百位，  
十位對齊十位，個位對齊個位，再比較。

應試技巧  
從100寫至300，用分類思維及列舉思維解題。  
只寫1個「0」：

I. 十位數字是「0」：101, 102, ..., 109, 共9個；201, 202, ..., 209, 共9個  
II. 個位數字是「0」：110, 120, ..., 190, 共9個；210, 220, ..., 290, 共9個

10. 用阿拉伯數字從一百寫至三百，共會寫多少個「0」?

#### 功能 4: 跳至最後一頁

此功能可能不常用，只需點擊最右側按鈕，便會彈出以下列表，點擊第二個選擇後便會跳轉至最後一頁。



## 功能 5：頁面旋轉

此功能可能不常用，只需點擊最右側按鈕，便會彈出以下列表，點擊第三或四個選擇後頁面便會跟據選擇的方向旋轉。



## 功能 6：轉換頁面檢視方式

此功能可能不常用，只需點擊最右側按鈕，便會彈出以下列表，點擊第七至八其中一個選擇後頁面便會跟據選擇的檢視方式展示。（例子：水平捲動）



**三位數**

選擇題

選出正確的答案填入  內。

1. 下列哪一個數的百位數字是「5」？

A. 215      B. 325      C. 452      D. 542

2. 在 347 中，「3」代表的數值是多少？

A. 300      B. 100      C. 30      D. 3

3. **381**，**?**，**402**

(最小)      (最大)

把三個數由小至大排列如上，方格裏的數可能是：

A. 369      B. 380      C. 399      D. 410

多元化題型

完成下列各題。

4.

5. 依規律，填一填。

(a) 200, 201, 202, 203, 204

(b) 501, 500, 499, 498, 497

6. 根據以下提示，在右面的方格內寫出一個三位數。

數字「2」在個位，數字「4」在百位，  
數字「8」在十位。

7. 把「>」、「<」或「=」填在圓圈內。

(a) 210  198      (b) 359  371

(c) 998  998      (d) 874  878

8. 

調味品	蠔油	醋	醬油
銷量(瓶)	951	876	943

上表顯示三款調味品的銷量，把銷量由多至少排列出來。

答案：951 > 943 > 876

9.

(a) 用以上數字卡組成最大的三位數：530

(b) 用以上數字卡組成最小的三位奇數：305