

例

6

4

8

5

1

3

2

用以上數字卡組成的最大七位偶數是什麼？

答案： 8 654 321 ~~X~~

忽略了關鍵字「偶數」。

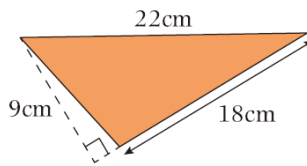
請改正

答案： _____

例

右圖三角形的面積是多少？

- A. 81cm^2
- B. 99cm^2 ~~X~~
- C. 162cm^2
- D. 198cm^2



誤把22cm的邊當作底，
9cm的邊當作對應的高。

請改正

- A. 81cm^2
- B. 99cm^2
- C. 162cm^2
- D. 198cm^2

例

右圖由兩個大小相同的平行四邊形重疊而成，它的面積是多少？（列式計算）

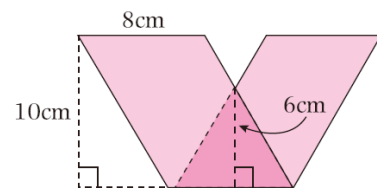
$$8 \times 10 \times 2 - 8 \times 6 \div 2 \times 2$$

$$= 112$$

~~X~~

它的面積是 112cm^2 。

少算了重疊部
分的面積。



請改正

例

公園和家相距2.4公里，爸爸每天跑步來回公園和家一次，一星期共跑了多少公里？

答案： 16.8 公里 ~~X~~

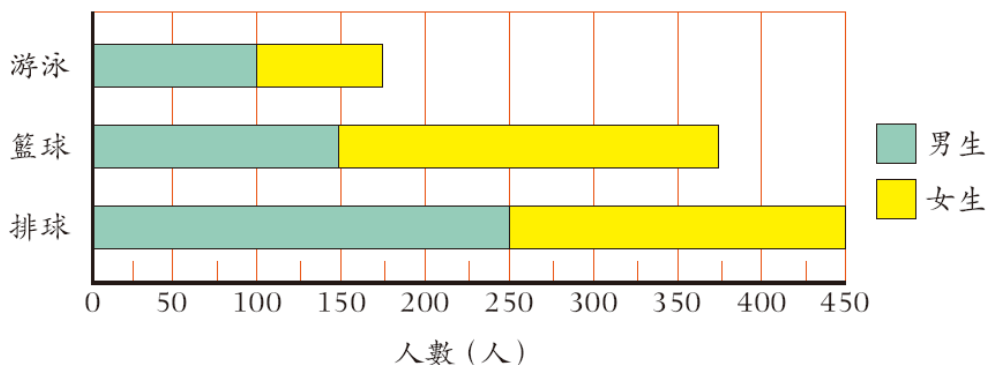
忽略了關鍵字眼「來回」。

請改正

答案： _____ 公里

例

健明小學五年級學生參加的運動項目



哪個項目最多女生參加？

答案： 排球 ~~X~~

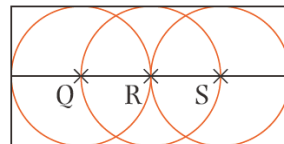
混淆了各棒代表的項目或以為參加人數最多的項目就是最多女生參加的。

請改正

答案： _____

例

長方形內有3個大小相同的圓，Q、R和S是圓心，且它們在同一條直線上。如果每個圓的直徑是20cm，長方形的長是多少？



答案： 60 cm ~~X~~

誤以為長方形的長等於3條直徑的長度。

請改正

答案： _____ cm

例

一個正方體的邊長是80厘米，它的體積是多少立方米？

答案： 512 000 立方米 ~~X~~

沒有留意題目的單位不統一。

請改正

答案： _____ 立方米