

## 增值資源

例 用阿拉伯數字寫出「七萬三千零八」這個數。

答案： 7308 X

漏寫其中一個「0」。

請改正

答案： \_\_\_\_\_

例 子樂從圖書館出發，先走了2000米到達體育館，再多走了1000米到達博物館。子樂共走了多少公里？

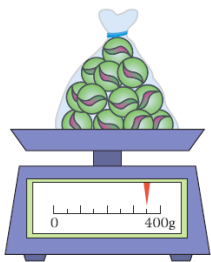
答案： 3000 公里 X

子樂共走了3000米。沒有換算單位，誤把「米」的數據作為答案。

請改正

答案： \_\_\_\_\_ 公里

例



上圖中，一袋波子的重量是多少？

答案： 350 X

(答案須寫上單位)

漏寫單位。

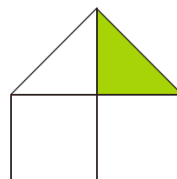
請改正

答案： \_\_\_\_\_

(答案須寫上單位)

例 右圖着色部分佔全圖的幾分之幾？

答案：  $\frac{1}{4}$  X



直接以圖形所分成的份數作分母，未有等分圖形。

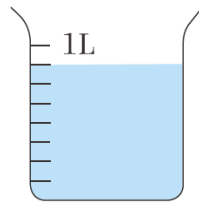
請改正

答案： \_\_\_\_\_

例 右面的量杯有水多少？

答案： 900 mL **X**

誤以為 1L 分為 10 格。



請改正

答案： \_\_\_\_\_ mL

例 浩賢統計了三年級學生訂閱兒童雜誌的人數，並把統計結果製作成棒形圖。為這個棒形圖寫出一個合適的標題。

三年級學生訂閱的人數

(標題) **X**

遺漏了部分關鍵字眼。

請改正

(標題)