

# 增值資源

例



上圖中， 排在第幾？

第一 







**請改正**

答案：第 三 

以為是由左至右數。

答案：第 \_\_\_\_\_

例

一包糖果中，有 12 顆 ，14 顆  和一些 。 比  少 5 顆， 有多少顆？（列式計算）

$$\begin{array}{r} 12 - 5 \\ = \quad 7 \end{array}$$


 有 7 顆。

誤以為  比  少 5 顆。


**請改正**

\_\_\_\_\_


= \_\_\_\_\_

 有 \_\_\_\_\_ 顆。

例



 的長度約是多少厘米？

答案：9 厘米 

誤以為物件的左端與厘米尺的「0」對齊。

**請改正**

答案：\_\_\_\_\_ 厘米