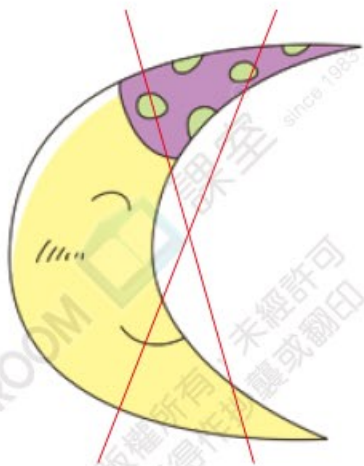




1

難度：👍👍

在圖中加上2條直線，把月亮分成5部分。(其他正確答案也可接受)



✓ 一剔

你答對了嗎？

2

難度：👍👍

美宜有三個不同容量的水壺。根據下列指示，找出容量最大的水壺。

- I. 水壺B的容量比水壺C的小。  
 $B < C$
- II. 水壺B的容量比水壺A的小。  
 $B < A$
- III. 水壺A的容量比水壺C的大。  
 $A > C$

答案：水壺 A 的容量最大。

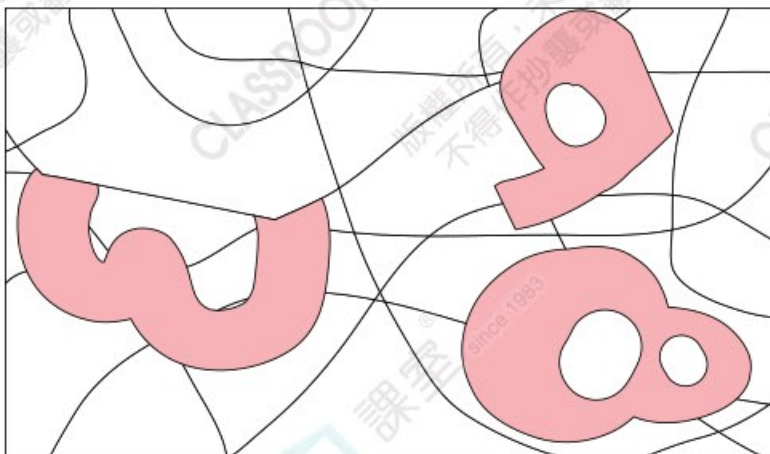
✓ 一剔

你答對了嗎？

3

難度：👍👍👍

在下圖中找出3個數字，並填寫在空格內，組成正確的算式。



$$\boxed{3} \times \boxed{8} - \boxed{9} = 15$$

(可接受答案：8×3-9)

✓ 一剔

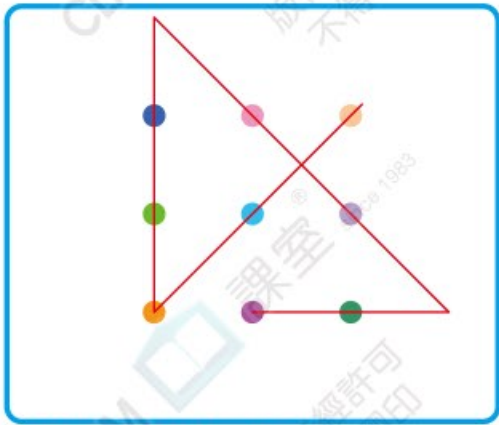
你答對了嗎？



4

難度：🍌🍌🍌

用4條直線，一筆過連接以下9個點，直線只能通過每個點一次。



(其他正確答案也可接受)

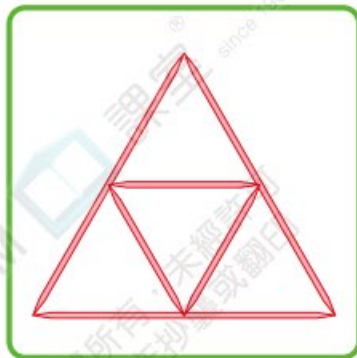
✓ 一剔

你答對了嗎？

5

難度：🍌🍌🍌🍌

妹妹用4cm和2cm的竹籤各3枝，拼出2個等邊三角形。哥哥說：「我不折斷這些竹籤也能拼出5個等邊三角形呢！」畫出哥哥拼出的圖案。



✓ 一剔


你答對了嗎？



6

難度：🍌🍌🍌🍌🍌

媽媽將17張手工紙分給三名子女。她對子女說明分配方法：「妹妹分得 $\frac{1}{2}$ ，姊姊分得 $\frac{1}{3}$ ，哥哥分得 $\frac{1}{9}$ 。我可以向你們借出一張手工紙幫助分配，但是不能把手工紙剪開，你們知道自己可分得多少張手工紙嗎？」



答案：妹妹分得 9 張，姊姊分得 6 張，哥哥分得 2 張。

借了1張手工紙後，共有18張。18的 $\frac{1}{2}$ 是9，18的 $\frac{1}{3}$ 是6，18的 $\frac{1}{9}$ 是2， $9+6+2=17$ ，剛好17張，餘下借來的1張手工紙。

✓ 一剔

你答對了嗎？