

目錄

2上

練習	課題	學習範疇	頁碼
1	三位數	數	2
2	每50、100個一數	數	4
3	加法 	數	6
4	米和厘米	度量	8
 測評卷(一) (練習1 - 4)			
5	角和直角	圖形與空間	10
6	減法 	數	12
7	柱體和錐體	圖形與空間	14
 測評卷(二) (練習5 - 7)			
8	乘法的認識	數	16
9	2、5和10的乘法	數	18
10	4和8的乘法 	數	20
11	時間	度量	22
 測評卷(三) (練習8 - 11)			
12	3和6的乘法	數	24
13	7和9的乘法	數	26
14	奇妙的乘法	數	28
15	年、月、日	度量	30
 測評卷(四) (練習1 - 15)			
應考小提示			32

 **Q教室**


變式題加入 QR Code，提供短片作詳細講解

米和厘米

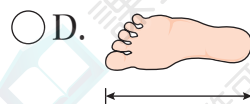

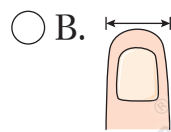
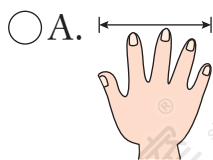
1. 在下列各項填上適當的長度單位。

- (a) 一個衣櫃高約 2 _____。
- (b) 一張生日卡長約 15 _____。
- (c) 一條馬路闊約 10 _____。
- (d) 一塊馬拉糕厚約 4 _____。

2.



下列哪一項 **不適合** 用來量度沙發和椅子的距離？



3. 用直尺量度梳子的長度。



梳子的長度是 _____。(答案須寫上單位)

4. 在橫線上填答案。

- (a) 100cm = _____ m
- (b) 3m = _____ cm
- (c) 2m60cm = _____ cm
- (d) 5m9cm = _____ cm



8. (a) 姊姊採摘了 170 顆草莓，妹妹比姊姊多採摘了 37 顆，即妹妹採摘了 _____ 顆草莓。

(b) 姊姊採摘了 170 顆草莓，比妹妹少採摘 37 顆，兩姊妹共採摘了 _____ 顆草莓。

9. 最大的兩位雙數與最小的三位單數相加，和是多少？

A. 198

B. 199

C. 200

D. 201

10. (a) 成人門票比小童門票貴 160 元，成人門票售 _____ 元。

(b) 叔叔買 1 張成人門票和 2 張小童門票，他共須付多少元？

答案：_____ 元

主題樂園	
	每張
成人門票	\$ _____
小童門票	\$198

11. 下表是一至三年級的學生人數。

級別	一年級	二年級	三年級
人數(人)	96	105	119

學校安排 14 名老師和一至二年級學生去旅行。一至二年級學生全部出席，即共有多少人參加旅行？(列式計算)

星級題 12. 三兄妹比較身高，弟弟比妹妹高 75cm，但比哥哥矮 46cm。哥哥和妹妹的身高相差多少？

答案：_____ cm

測評卷（三）

姓名：_____

班別：_____（_____）

日期：_____

成績：_____

範圍：練習8 - 11

限時：40分鐘

課題	題號	分數	總分
乘法的認識	10-11, 19-21	/13	/100
2、5和10的乘法	1-2, 5-6, 9, 13-14, 23, 24(a), 26, 33-34	/32	
4和8的乘法	3-4, 7-8, 12, 22, 24(b), 25, 27(b), 31-32, 35	/33	
時間	15-18, 27(a), 28-30	/22	
★超越100分 星級題	36-38	/15	/15

掃描這裏可取得更多網上學習資源!



計算題

【16分，每題2分】

1. $2 \times 4 =$ _____

2. $10 \times 6 =$ _____

3. $4 \times 3 =$ _____

4. $8 \times 5 =$ _____

5. $2 \times 9 =$ _____

6. $5 \times 3 =$ _____

7. $4 \times 5 =$ _____

8. $8 \times 6 =$ _____

選擇題

【20分，每題2分】

9. 下列哪一道算式的結果與「 5×6 」的相同？

A. $5 + 6$

B. 2×10

C. 10×3

D. 2×8

10. 如果 $8 \times \quad = 8 + 8 + 8 + 8$ ，那麼 $\quad = ?$

A. 1

B. 4

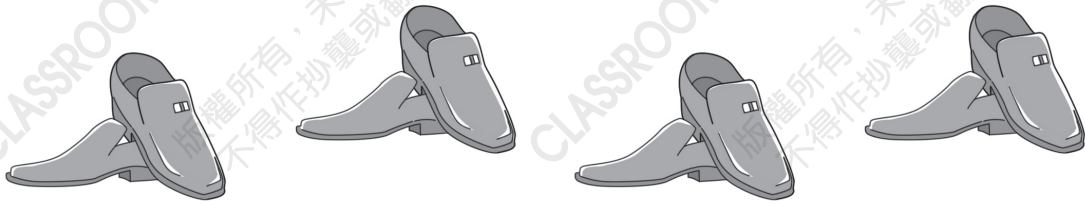
C. 8

D. 32

短答題

【39分】

19.

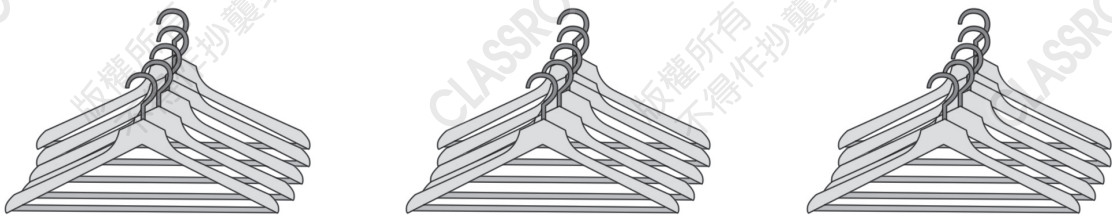


(a) $2 + 2 + \underline{\quad\quad} + \underline{\quad\quad} = \underline{\quad\quad}$ 【1分】

(b) $\underline{\quad\quad} \times \underline{\quad\quad} = \underline{\quad\quad}$ 【1分】

20. 在「 $4 \times 6 = 24$ 」中，被乘數是 $\underline{\quad\quad}$ ，乘數是 $\underline{\quad\quad}$ ，積是 $\underline{\quad\quad}$ 。【3分】

21.




(a) 5 的 3 倍是 $\underline{\quad\quad}$ 。【2分】

(b) 共有 $\underline{\quad\quad}$ 個衣架。【2分】

22. 一套洋娃娃有 4 個，姊姊買了 3 套，共有洋娃娃多少個？【2分】

答案： $\underline{\quad\quad}$ 個

23.

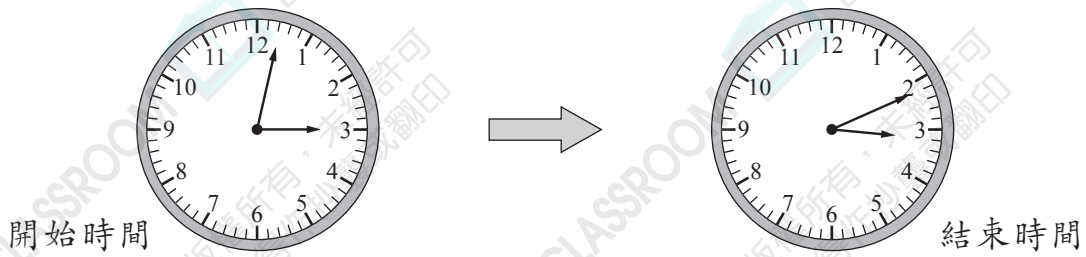


每籠 \$10

祖父和志成各吃了一籠餃子，他們共吃了餃子多少隻？【2分】

答案： $\underline{\quad\quad}$ 隻

35.



上圖顯示廚師包水餃的開始時間和結束時間，他每分鐘可包4隻水餃，即共包了水餃多少隻？

星級題

【15分，每題5分】

36.

$$\blacklozenge \times 4 = \heartsuit \times 10$$

根據上面的等式，寫出兩組 \blacklozenge 和 \heartsuit 可能的值。【5分】

組合一： $\blacklozenge =$ _____， $\heartsuit =$ _____

組合二： $\blacklozenge =$ _____， $\heartsuit =$ _____

37. 進之看一本故事書，從第1頁開始看，每天看8頁。他看了5天後，第6天應從第_____頁開始看。【5分】

38. 菲兒在上午看了數字鐘一次，發現「時」的數目剛好是「分」的5倍，如果「分」的數目是雙數，寫出及圈出數字鐘顯示的時間。【5分】



- 全卷完 -